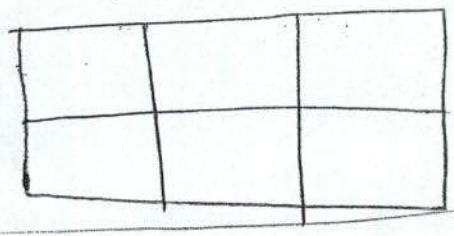


تقسیم زیر را از دو راه حل کنید

$$\frac{0/22}{0/18} =$$

ضرب مقابل را (روشن مساحتی) بدست آورید

$$2/1 \times 1/3$$




۴/۳ س = _____ متر

۳۵ اس = _____ میلی متر

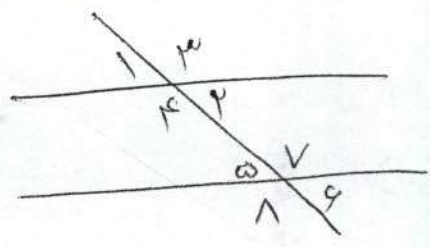
۲/۴ متر = _____ میلی متر

۷/۳۴ کیلو متر = _____ متر

در شکل مقابل اندازه زاویه خواسته شده را حساب کنید



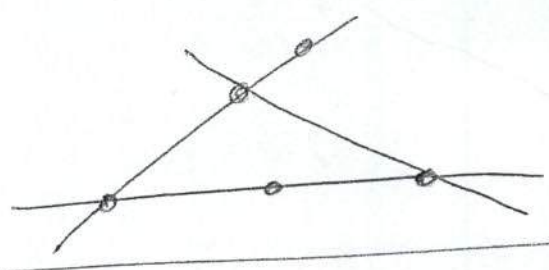
در شکل زیر دو زاویه مکمل



دو زاویه متقابل به رأس

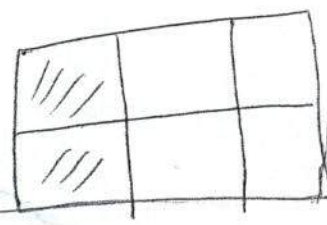
نام ببرید

در شکل رو برو چند زاویه خط و چند نیم خط می بینید



مجموع زوایای یک مثلث را حساب کنید

در شکل رو برو ۵ کمر مساوی بنویسید



که سیم به طول ۳/۴ متر و ۲۸ س نیاز دارد او چند سیم